

各位家長：

因「新型冠狀病毒肺炎」疫情發展，教育暨青年局已宣布中、小、幼教育階段春節假期後延遲復課。按教育暨青年局的「學生自學工作計劃指引」，現小學部學生 4 月 13 至 17 日在家自學的安排如下：

語文科：

年級	自學內容
一	<p>【複習】</p> <p>朗讀一上第 4 課課文及詞語</p> <p>【網絡視頻】</p> <p><a href="https://www.youtube.com/watch?v=Mc9I5rAFZG4&amp;t=23s">https://www.youtube.com/watch?v=Mc9I5rAFZG4&amp;t=23s</a></p> <p>【作業】</p> <p>依上面視頻的對話，回答問題。(不用抄題目以完整句子作答並寫在紙上)</p> <ol style="list-style-type: none"><li>1. <u>志文</u>平日習慣在甚麼時候刷牙？</li><li>2. <u>志文</u>早上起床有沒有刷牙？</li><li>3. 爸爸買給<u>志文</u>的牙膏是甚麼味道？</li><li>4. 爸爸買了多少種東西給<u>志文</u>刷牙？</li><li>5. 爸爸提議全家人每天晚上做一個甚麼比賽？</li></ol>
二	<p>【複習】</p> <p>朗讀二上第 5 課課文及詞語</p> <p>【網絡視頻】</p> <p><a href="https://www.youtube.com/watch?v=yK3-9C1jGrs">https://www.youtube.com/watch?v=yK3-9C1jGrs</a></p> <p>【作業】</p> <p>根據上面視頻，判斷以下題目，符合故事內容在( )內加✓；不符合加×。</p> <p>(要抄題目並用紙做)</p> <ol style="list-style-type: none"><li>1. <u>思晴</u>爺爺因為和朋友上茶樓吃點心，所以很遲才回家。----- ( )</li><li>2. <u>香港</u>的軍營一般在春節開放供市民參觀。----- ( )</li><li>3. <u>思晴</u>和爺爺參觀<u>赤柱</u>軍營。----- ( )</li><li>4. 爺爺想<u>思晴</u>改掉懶惰的缺點，所以排隊取入場券。----- ( )</li></ol> <p>問答題。</p> <p>你最想家長帶你參觀甚麼地方？為甚麼？</p>
三	<p>【複習】</p> <p>朗讀三上二第 6 頁運用了歎詞的句子</p> <p>【網絡視頻】</p> <p><a href="https://www.youtube.com/watch?v=oRGhviyd7WQ">https://www.youtube.com/watch?v=oRGhviyd7WQ</a></p> <p><a href="https://www.youtube.com/watch?v=9FozNgg4Ykw">https://www.youtube.com/watch?v=9FozNgg4Ykw</a></p> <p>【作業】</p>

	<p>在括號內選出正確的歎詞擴寫句子，並加上標點符號。</p> <p>(不用抄題目以完整句子作答並寫在紙上)</p> <ol style="list-style-type: none"> <li>1. 志達高興地喊：「我的草莓發芽啦！」(唉 / 哈哈)</li> <li>2. 這裏景色宜人，真是個好地方呢！(哎呀 / 啊)</li> <li>3. 「心然，你怎麼這麼不小心呢？」子欣邊說邊伸手去扶摔倒在地上的心然。(哎呀 / 哈哈)</li> <li>4. 明天的比賽為甚麼取消了？(噢 / 哈哈)</li> <li>5. 哥哥無精打采地說：「弟弟弄壞了我的玩具！」(啊 / 唉)</li> </ol> <p>【朗讀古詩】</p> <p>《登樂遊原》 (唐) 李商隱</p> <p>向晚意不適，驅車登古原。</p> <p>夕陽無限好，只是近黃昏。</p>
<p>四</p>	<p>【複習】</p> <p>比喻句</p> <p>【網絡視頻】</p> <p><a href="https://www.youtube.com/watch?v=3zLYOO5fAZ0">https://www.youtube.com/watch?v=3zLYOO5fAZ0</a></p> <p>【作業】</p> <p>欣賞影片後回答問題。(要抄題目並用紙做)</p> <ol style="list-style-type: none"> <li>1. 影片中哪些是比喻句呢？</li> <li>2. 試用喻詞「像」來創作兩句比喻句。</li> </ol>
<p>五</p>	<p>【複習】</p> <p>成語故事---《掩耳盜鈴》</p> <p>【網絡視頻】</p> <p><a href="https://www.youtube.com/watch?v=BbyUk3WAOZY">https://www.youtube.com/watch?v=BbyUk3WAOZY</a></p> <p>【作業】</p> <p>聆聽故事後回答問題。(要抄題目並用紙做)</p> <ol style="list-style-type: none"> <li>1. 故事裡的主角做了些甚麼事情? 他為甚麼要這樣做?</li> <li>2. 偷鐘的人為甚麼要用雙手捂住自己的耳朵? 這是甚麼行為?</li> <li>3. 掩耳盜鈴這個成語說明了甚麼意思呢?</li> <li>4. 舉一個你曾做或看的掩耳盜鈴事情，從而給你甚麼啟示?</li> <li>5. 運用「掩耳盜鈴」這個成語造句。</li> </ol>
<p>六</p>	<p>【複習】</p> <p>閱讀、段意理解及續句</p> <p>【網絡視頻】</p> <p><a href="https://www.youtube.com/watch?v=k0RFg8ohCRs">https://www.youtube.com/watch?v=k0RFg8ohCRs</a></p> <p>【作業】</p> <p>做《語基閱讀同步特訓》第 35 頁及第 40-41 頁閱讀理解。</p>

註: 澳門特區政府設有全民閱讀平台，本澳市民只要登入

<http://www.library.gov.mo/zh-hant/library-collections/e-resources>

網站，不需要註冊帳號，**免費閱讀**網上約萬種圖書及千種暢銷雜誌。



有興趣的家長或學生歡迎瀏覽。


**英文科:**

年級	自學內容
一	<p>【複習】 上學期第 5 課課文 Our animal friends</p> <p>【網絡視頻】 <a href="https://youtu.be/wCfWmlnJl-A">https://youtu.be/wCfWmlnJl-A</a></p> <p>【作業】 抄讀課本 P.55 生字 1-8 四次（用紙做）</p>
二	<p>【複習】 上學期第 6 課課文 About my family</p> <p>【網絡視頻】 <a href="https://www.youtube.com/watch?v=ZnW0-VuKZpc">https://www.youtube.com/watch?v=ZnW0-VuKZpc</a></p> <p>【作業】 溫上學期書本 P.70 Language focus 2 句式 做 C.B. P.6-7</p>
三	<p>【複習】 上學期第 1 課課文 Weather and seasons</p> <p>【網絡視頻】 重溫助動詞 do/does 的用法 <a href="https://youtu.be/2YM0iKW2WcE">https://youtu.be/2YM0iKW2WcE</a></p> <p>【作業】 做 C.B. P.10-11（用鉛筆做）</p>
四	<p>【複習】 上學期第 1 課課文 Join our club 文法書第 9 課 The Verb 'To Be'</p> <p>【網絡視頻】 <a href="https://youtu.be/DTxMD3r-dLA">https://youtu.be/DTxMD3r-dLA</a></p> <p>【作業】 溫動詞 61-68 1-20 溫上學期第 1 課生字及 I.P. P.1-4 做 C.B. P.12-13（做文法書 P.112-113 Ex.1-2 用鉛筆做）</p>
五	<p>【複習】 上學期第 1 課課文 Turning over a new leaf</p>

	<p>文法書第 10 課 The Verb ‘To Be’</p> <p>【網絡視頻】</p> <p><a href="https://youtu.be/DTxMD3r-dLA">https://youtu.be/DTxMD3r-dLA</a></p> <p>【作業】</p> <p>溫動詞 21-40 溫上學期第 1 課生字及 I.P. P.1-4</p> <p>做 C.B. P.12-13 (做文法書 P.127-128 17-18 用鉛筆做)</p>
六	<p>【複習】</p> <p>上學期第 1 課課文 When I grow up</p> <p>文法書第 12 課 The Verb ‘To Be’</p> <p>【網絡視頻】</p> <p><a href="https://youtu.be/DTxMD3r-dLA">https://youtu.be/DTxMD3r-dLA</a></p> <p>【作業】</p> <p>溫動詞 21-40 溫上學期第 1 課生字及 I.P. P.1-4</p> <p>做 C.B. P.12-13 (做文法書 P.172-173 17-18 用鉛筆做)</p>

**數學科:**

年級	自學內容
一	<p>【複習】</p> <p>上學期認識 0</p> <p>【網絡視頻】</p> <p><a href="https://www.youtube.com/watch?v=y611LCKg7IM">https://www.youtube.com/watch?v=y611LCKg7IM</a></p> <p>【作業】</p> <p>解答下列各題並把答案告訴家長:</p> <p>(1) 讀出在直尺上括號內的數。</p>  <p>(2) 看圖算出等式。</p> <p>① </p> <p><input type="text"/> - <input type="text"/> = <input type="text"/></p>

	<p>②</p>  <p style="text-align: center;">□ - □ = □</p>
<p>二</p>	<p><b>【複習】</b> 上學期認識千和四位數</p> <p><b>【網絡視頻】</b> <a href="https://v.qq.com/x/cover/mzc00200vwrqugt/z0931zs4ekc.html">https://v.qq.com/x/cover/mzc00200vwrqugt/z0931zs4ekc.html</a></p> <p><b>【作業】</b> 解答下列各題:(要抄題目並用上學期數學簿或紙做)</p> <p>(1) 4865 讀作 ( )，由 ( ) 個一，( ) 個十，( ) 個百，( ) 個千組成。</p> <p>(2) 二千零二寫作 ( )，這個數中間有 ( ) 個零。</p> <p>(3) 10 個百和 5 個百組成的數是 ( )。</p> <p>(4) 依規律寫出四位數，3003、3013、3023、3033、( )、( )、( )。</p> <p>(5) 3 個千和 9 個十組成的數是 ( )，比這個數大 2 的數是 ( )。</p>
<p>三</p>	<p><b>【複習】</b> 上學期兩位數除以一一位數</p> <p><b>【網絡視頻】</b> <a href="https://haokan.baidu.com/v?vid=10239212856145901352&amp;pd=bjh&amp;fr=bjhauthor&amp;type=video">https://haokan.baidu.com/v?vid=10239212856145901352&amp;pd=bjh&amp;fr=bjhauthor&amp;type=video</a></p> <p><b>【作業】</b> 解答下列各題:(用上學期數學簿或紙做)</p> <p>(1) <math>85 \div 5</math></p> <p>(2) <math>42 \div 3</math></p> <p>(3) <math>64 \div 4</math></p> <p>(4) 一輛汽車要用 4 個輪子，76 個輪子可以裝配多少輛汽車？</p> <p>(5) 有 98 袋大米，一輛三輪車一次最多運 8 袋，最少要運多少次才能全部運完？</p>
<p>四</p>	<p><b>【複習】</b> 上學期角</p> <p><b>【網絡視頻】</b> <a href="https://www.youtube.com/watch?v=zdXnEp1110c&amp;t=2s">https://www.youtube.com/watch?v=zdXnEp1110c&amp;t=2s</a></p> <p><b>【作業】</b> 解答下列各題:(要抄題目並用上學期數學簿或紙做)</p> <p>(1) 我們可以用_____來協助量度角的大小。</p> <p>(2) 角是從一點畫出兩條射線所組成的圖形，該點稱為角的_____，兩條射線則</p>

稱為角的\_\_\_\_\_。

(3) 直角是\_\_\_\_\_度，平角是\_\_\_\_\_度，周角是\_\_\_\_\_度。

(4) 周角等於\_\_\_\_\_個直角，周角是平角的\_\_\_\_\_倍。

(5) 用量角器畫出下列指定大小的角。

$\angle AOB=60^\circ$     $\angle COD=135^\circ$     $\angle E=320^\circ$

五

【複習】

上學期面積

【網絡視頻】

平行四邊形的面積

<https://www.youtube.com/watch?v=vlRGKVi7oQ&amp;=t=505s>

三角形的面積：

<https://www.youtube.com/watch?v=FTns4w0XbcE>


梯形的面積

<https://www.youtube.com/watch?v=5giseWNFuAI>

【作業】

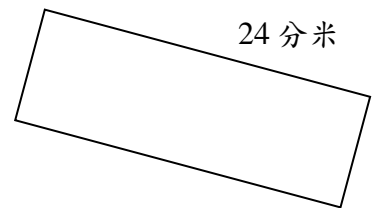
計算下列平面圖形的面積:(不用畫圖，用上學期數學簿或紙做)

(1)



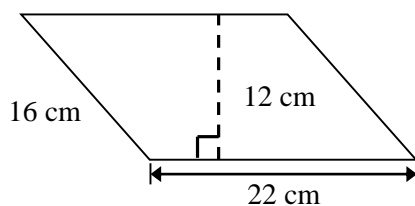
31 mm

(2)

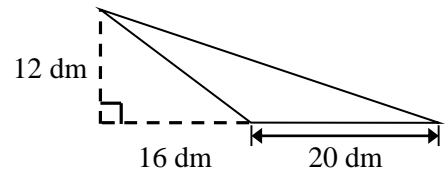


8 分米

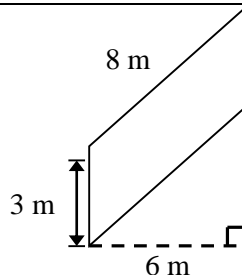
(3)



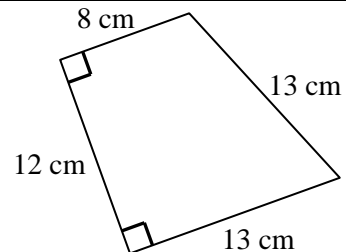
(4)



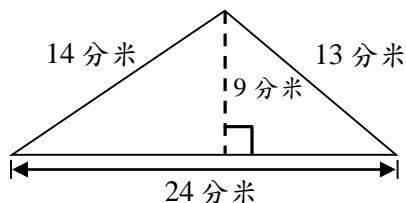
(5)



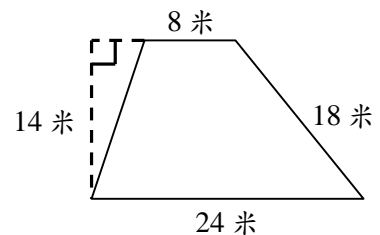
(6)



(7)



(8)



六	<p><b>【複習】</b> 上學期賺賠</p> <p><b>【網絡視頻】</b> <a href="https://www.youtube.com/watch?v=55ddDfUOXos">https://www.youtube.com/watch?v=55ddDfUOXos</a></p> <p><b>【作業】</b> 解答下列各題:(用上學期數學簿或紙做)</p> <p>(1) 一台電腦以 7800 元售出，利潤是 788 元，則這台電腦的成本是_____元。</p> <p>(2) 一張書桌的成本是 120 元，現以賺率 30% 出售，則每張書桌售_____元。</p> <p>(3) 一款手提電話的成本為 3600 元，</p> <p>(a) 如果這款手提電話的售價為 4800 元，利潤是_____元，賺率是_____。</p> <p>(b) 如果店主期望以這手提電話的盈利率為 50%，則這部手提電話的售價是_____。</p> <p>(4) 一個玩具模型成本是 108 元，店主想以賺取成本價的 25% 出售，售價應是多少元？</p> <p>(5) 某商店購入 80 對運動鞋的總成本是 22 400 元，每對運動鞋的售價是 350 元，售出這批運動鞋的賺率是多少？</p>
---	---

**常識科：**

年級	自學內容
一	<p><b>【複習】</b> 上學期課題 4 情緒控制</p> <p><b>【網絡視頻/電視節目】</b> 由家人協助，瀏覽相關網站或觀看相關電視節目，以獲悉新冠肺炎疫情的最新資訊。</p> <p><b>【作業】</b> 完成下列題目： 1. 新冠肺炎已蔓延全球，疫情嚴峻。請搜集資料，填一填。 直至 2020 年 4 月 14 日澳門累計有_____人確診、_____人死亡、_____人康復。 建議把題目和答案寫在空白的方格紙或單行紙上，並使用鉛筆作答。 2. 對於上面數據，請向家人說出一句祝福確診者的說話。</p>
二	<p><b>【複習】</b> 上學期第 10 課動物的習性</p> <p><b>【網絡視頻/電視節目】</b> 由家人協助，瀏覽相關網站或觀看相關電視節目，以獲悉新冠肺炎疫情的最新資訊。</p> <p><b>【作業】</b> 完成下列題目：</p>

	<p>1. 新冠肺炎已蔓延全球，疫情嚴峻。請搜集資料，填一填。          直至 2020 年 4 月 14 日澳門累計有____人確診、____人死亡、____人康復。          建議把題目和答案寫在空白的方格紙或單行紙上，並使用鉛筆作答。</p> <p>2. 對於上面數據，請向家人說出一句祝福確診者的說話。</p>
<p>三</p>	<p><b>【複習】</b>          上學期第 10 課光的傳播和反射</p> <p><b>【網絡視頻/電視節目】</b>          由家人協助，瀏覽相關網站或觀看相關電視節目，以獲悉新冠肺炎疫情的最新資訊。</p> <p><b>【作業】</b>          完成下列題目：</p> <p>1. 新冠肺炎已蔓延全球，疫情嚴峻。請搜集資料，填一填。          直至 2020 年 4 月 14 日：</p> <p>(1) 澳門累計有____人確診、____人死亡、____人康復。          (2) 中國累計有____人確診、____人死亡、____人康復。</p> <p>建議把題目和答案寫在空白的方格紙或單行紙上，並使用鉛筆或藍色原子筆作答。</p> <p>2. 對於上面數據，請向家人說出一句祝福確診者的說話。</p>
<p>四</p>	<p><b>【複習】</b>          上學期第 7 課空氣與生命</p> <p><b>【網絡視頻/電視節目】</b>          瀏覽相關網站或觀看相關電視節目，以獲悉新冠肺炎的最新資訊。</p> <p><b>【作業】</b>          完成下列題目：</p> <p>1. 新冠肺炎已蔓延全球，疫情嚴峻。請搜集資料，填一填。          直至 2020 年 4 月 14 日：</p> <p>(1) 澳門累計有____人確診、____人死亡、____人康復。          (2) 中國累計有____人確診、____人死亡、____人康復。</p> <p>建議把題目和答案寫在空白的方格紙或單行紙上，並使用藍色原子筆作答。</p> <p>2. 對於上面數據，請向家人說出一句祝福確診者的說話。</p>
<p>五</p>	<p><b>【複習】</b>          上學期第 1 課生物的分類</p> <p><b>【網絡視頻/電視節目】</b>          瀏覽相關網站或觀看相關電視節目，以獲悉新冠肺炎疫情的最新資</p>



	<p>訊。</p> <p><b>【作業】</b></p> <p>完成下列題目：</p> <p>1. 新冠肺炎已蔓延全球，疫情嚴峻。請搜集資料，填一填。 直至 2020 年 4 月 14 日：</p> <p>(1) 澳門累計有_____人確診、_____人死亡、_____人康復。 (2) 中國累計有_____人確診、_____人死亡、_____人康復。 (3) 全球累計有_____人確診、_____人死亡、_____人康復。</p> <p>建議把題目和答案寫在空白的方格紙或單行紙上，並使用藍色原子筆作答。</p> <p>2. 對於上面數據，請向家人說出自己的感受和一句祝福確診者的說話。</p>
<p>六</p>	<p><b>【複習】</b></p> <p>上學期第 13 課生活中的機械</p> <p><b>【網絡視頻/電視節目】</b></p> <p>瀏覽相關網站或觀看相關電視節目，以獲悉新冠肺炎疫情的最新資訊。</p> <p><b>【作業】</b></p> <p>完成下列題目：</p> <p>1. 新冠肺炎已蔓延全球，疫情嚴峻。請搜集資料，填一填。 直至 2020 年 4 月 14 日：</p> <p>(1) 澳門累計有_____人確診、_____人死亡、_____人康復。 (2) 中國累計有_____人確診、_____人死亡、_____人康復。 (3) 全球累計有_____人確診、_____人死亡、_____人康復。</p> <p>建議把題目和答案寫在空白的方格紙或單行紙上，並使用藍色原子筆作答。</p> <p>2. 對於上面數據，請向家人說出自己的感受和一句祝福確診者的說話。</p>

備註：在家學習所安排的作業在學生復課後之上學日提交。

懇請家長鼎力支持，讓我們攜手抗疫，全力配合特區政府和教育暨青年局的指引。

祝

身體健康！

家庭幸福！

小學部教務處謹啟

2020 年 4 月 10 日